

---

令和5年度 第3回 (4科目)

桐蔭学園 中等教育学校 学力検査問題

社 会

令和5年2月5日 施行

---

注意事項

1. 試験開始の合図があるまで、この冊子の中を見てはいけません。
2. 机の上には、えんぴつ・シャープペンシル・消しゴム・受験票・座席券・時計以外のものを置いてはいけません。受験生どうしの貸し借りもできません。また、机の中には何も入れてはいけません。
3. スマートフォンは、必ず電源を切って、かばんの中に入れておいてください。
4. 問題冊子の印刷が見えづらかったり、ページが不足したりしている場合、また、えんぴつなどを落としたり、体の調子が悪くなったりした時は、だまって手をあげてください。
5. 問題冊子のあいているところは自由に利用してかまいませんが、どのページも切りはなしてはいけません。
6. 記述問題において、小学校で習わない漢字はひらがなで書いてもかまいません。
7. 問題は15ページまであります。
8. 問題冊子は持ち帰ってください。

1 日本列島の自然と自然災害に関する、あとの間に答えなさい。

問1 図1は、日本と世界のいくつかの河川について、水源の標高と河口からの距離を示したものです。図1から読み取れる日本の河川の特徴を考えて、答えなさい。

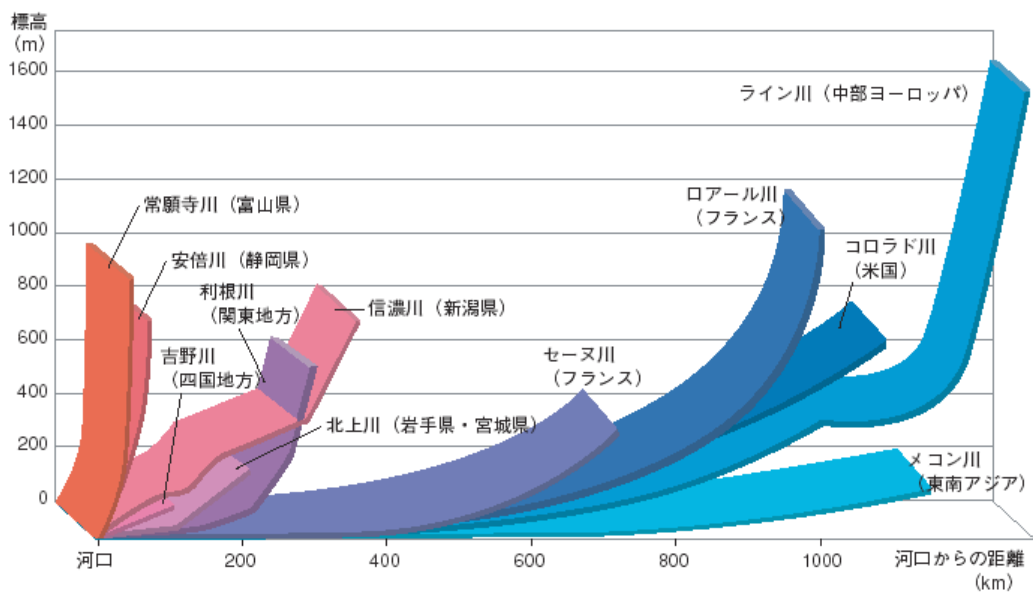
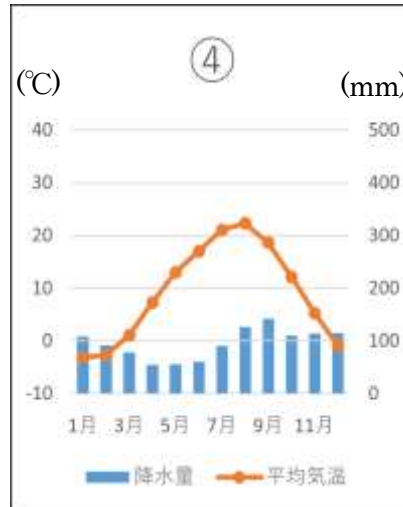
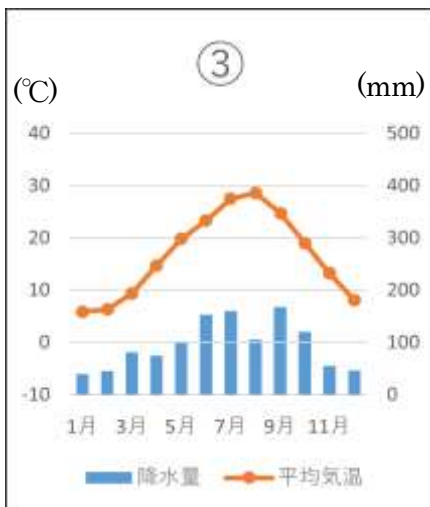
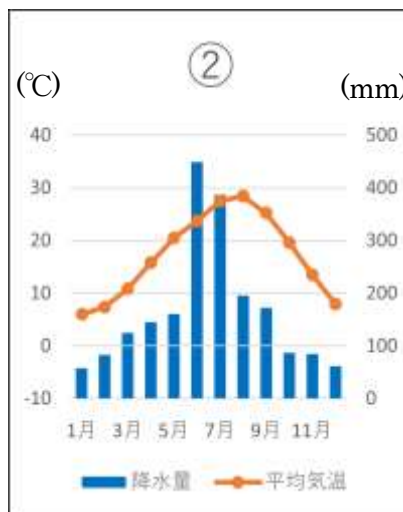
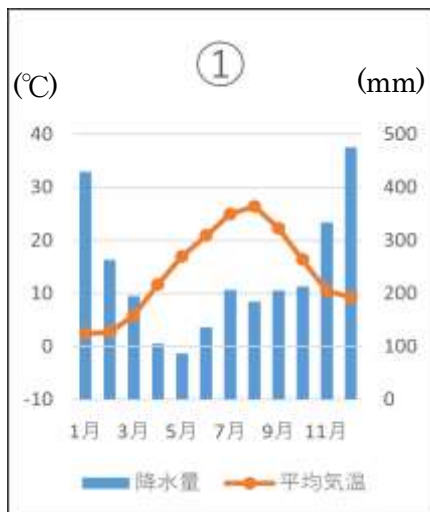


図1 国土交通省資料より

(問題は3ページに続きます。)

**問2** 日本の気候は、国土が南北に長いことや地形のちがいに、地域ごとにさまざまな特色がみられます。次の(1)～(2)の間に答えなさい。

(1) 次の①～④の雨温図(気温と降水量のグラフ)は、図2中のア～エのいずれかの都市の雨温図です。①～④が当てはまる都市を1つずつ選び、記号で答えなさい。



『日本国勢図会』より



図2

(2) 雨温図①から、この都市は1月や12月の冬の時期に降水量が多いという特色が読み取れます。冬の時期に降水量が多い理由を考えて、答えなさい。

問3 日本の自然災害について、あとの各問に答えなさい。

(1) 次の図3の●、▲、×の記号は、日本の主な自然災害のうち火山噴火、地震、降雨災害の発生地を示しています。また、表1は図3に示されている自然災害についてまとめたものです。●、▲、×で示された自然災害を下のア～ウからそれぞれ1つずつ選び、記号で答えなさい。

図3

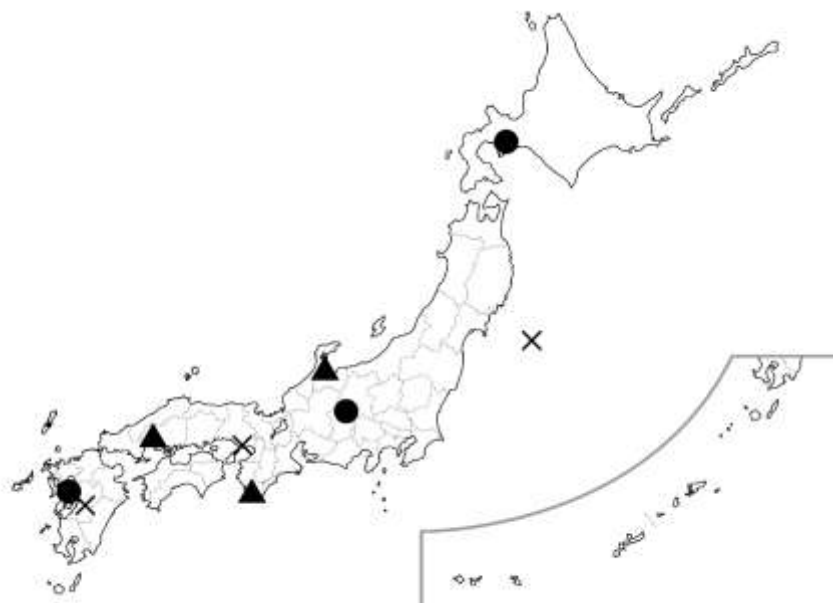


表1

火山噴火	地震	降雨災害
うんぜんふげんだけかさいりゅう 雲仙普賢岳火砕流	阪神・淡路大震災	紀伊半島大水害
うずざん 有珠山噴火	東日本大震災	広島市土砂災害
おんたけざん 御嶽山噴火	熊本地震	北陸豪雪 こうせつ

ア 火山噴火      イ 地震      ウ 降雨災害

(2) 近年、たび重なる自然災害に対する防災の意識が高まり、ハザードマップの活用が進んでいます。ハザードマップが大切なものだと認識されたのは、高潮により想定される被害を住民に知らせるために作られた「災害予知図」のおかげで、実際に発生した高潮の被害を予知できたことがきっかけでした。そのきっかけとなったできごととして正しいものを、次のア～エから1つ選び、記号で答えなさい。

ア 桜島の大噴火

イ 三陸沿岸を襲った大津波

ウ 濃尾平野南部を襲った大型の台風

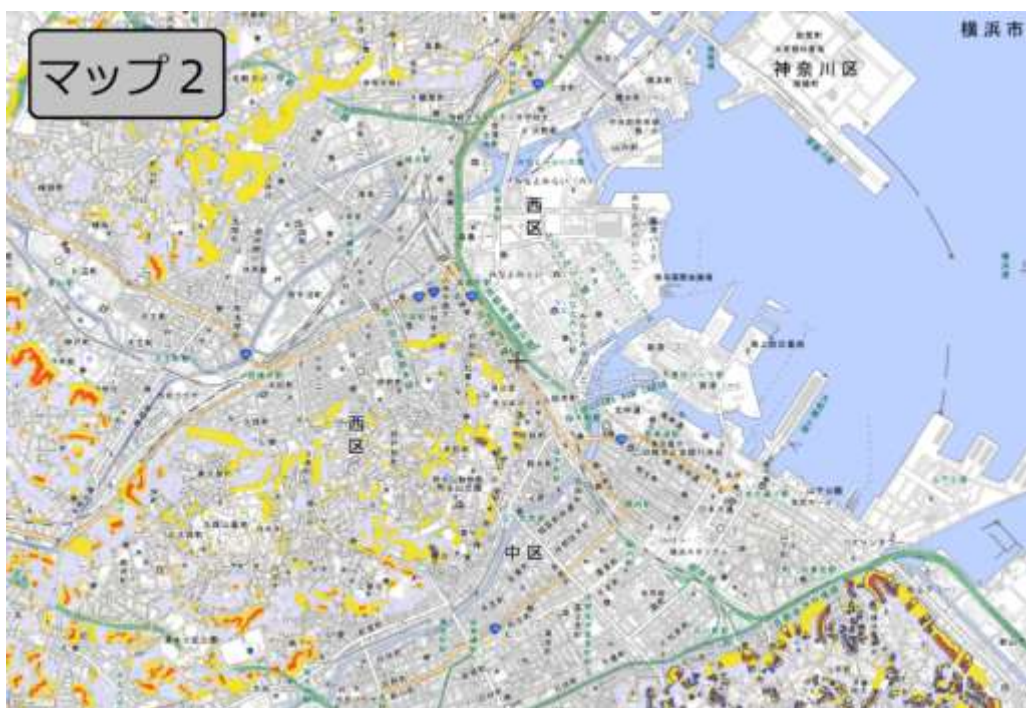
エ 瀬戸内地方の埋め立て地を襲った、地震による液状化

(3) 下のマップ1～3は、横浜市のみなとみらい地区周辺について、国土交通省の「重ねるハザードマップ」を用いて、津波、洪水、土砂災害について作成したハザードマップです。色でぬりつぶされている範囲が想定される被害地域ですが、マップ1～3はそれぞれの災害のハザードマップか、次の表の**ア～カ**から正しい組み合わせを選び、記号で答えなさい。

	ア	イ	ウ	エ	オ	カ
マップ1	津波	津波	洪水	洪水	土砂災害	土砂災害
マップ2	洪水	土砂災害	津波	土砂災害	洪水	津波
マップ3	土砂災害	洪水	土砂災害	津波	津波	洪水







2

おきなわ りゅうきゅう  
 沖縄（琉球）に関する歴史年表を見て、あとの間に答えなさい。

年代(西暦)	できごと
7000 年前ごろ～	<u>①漁や採取中心の生活が営まれる</u>
753 年	<u>②帰りの遣唐使船が琉球に寄港</u>
1429 年	<u>③琉球王国ができる</u>
1466 年	将軍 <u>④足利義政</u> が京都で琉球の使節に会う
1609 年	<u>⑤薩摩藩が琉球を征服する</u>
1853 年	<u>⑥ペリー艦隊が琉球に寄港する</u>
1872 年	琉球国王を藩主にした琉球藩ができる
1879 年	<u>⑦沖縄県ができる</u>
1895 年	( <u>⑧</u> )が沖縄県に編入される
1912 年	<u>⑨沖縄県民に初めて選挙権が与えられる</u>
1945 年	<u>⑩沖縄が戦場になり、アメリカ軍が占領</u>
1951 年	<u>⑪サンフランシスコ平和条約が結ばれる</u>
1972 年	<u>⑫沖縄が日本に返還される</u>

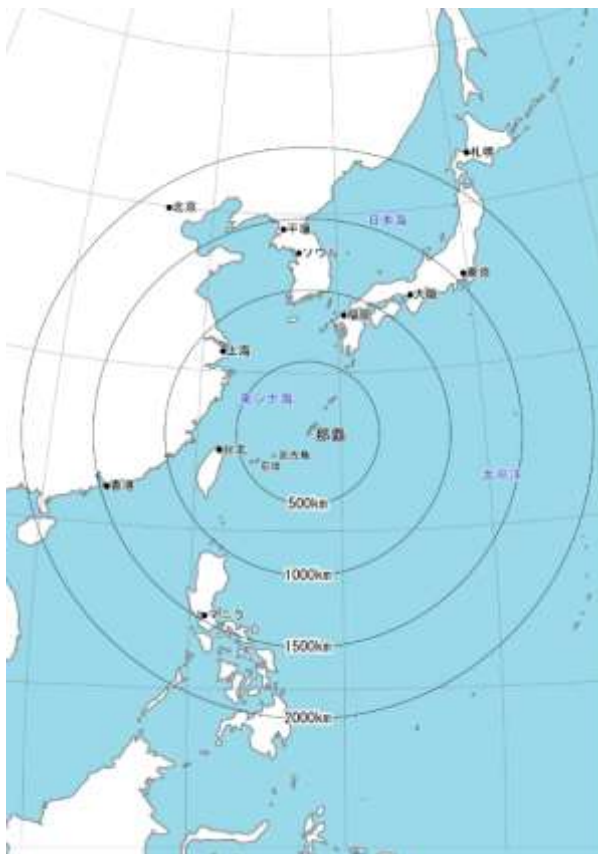
**問1** 下線部①について、この時代は 11・12 世紀ごろまで続き、沖縄では「貝塚文化」時代とよばれています。この時代が終わるころ、本州・四国・九州では何時代でしたか。次のア～エの中から 1 つ選び、記号で答えなさい。

ア 弥生時代    イ 平安時代    ウ 古墳時代    エ 縄文時代

**問2** 下線部②について、この船には帰国する遣唐使一行に混じり、10 年をかけて、ようやく日本にたどり着こうとしている人物が乗っていました。奈良に唐招提寺を開いて、日本の仏教の発展に大きな役割をはたした、この中国の僧は誰ですか。漢字またはひらがなで答えなさい。

問3 下線部③について、15世紀から16世紀にかけて、この国はおおいに栄えました。地図を参考にして、この国が栄えた理由を答えなさい。

注：地図は現在のもので、中心は那覇<sup>なは</sup>です。ここに琉球王国の都が置かれていました。



地図（「沖縄県」公式サイトより）

問4 下線部④について、この人物が活躍<sup>かつやく</sup>した時代のできごととして最も適当なものを次のア～エの中から1つ選び、記号で答えなさい。

- ア 2度にわたって、元が九州に攻めてきた。
- イ 2度にわたって、明に従っていた朝鮮を攻めた。
- ウ 京都の町が戦乱で焼け、争いが地方に広がった。
- エ 武士が源氏と平氏に分かれて、数年間争いを続けた。

問5 下線部⑤について、琉球が薩摩藩に支配された時代の説明として、誤っているものを次のア～エの中から1つ選び、記号で答えなさい。

- ア 琉球から薩摩に、砂糖などが輸出された。
- イ 薩摩から琉球に、蝦夷地産の昆布などが輸入された。
- ウ 琉球から江戸に、将軍や琉球国王が代わるごとに使節がつかわされた。
- エ 琉球から中国に、使節を送ることは、薩摩藩がやめさせた。

問6 下線部⑥について、このあとペリー艦隊は浦賀にやってきました。このときペリーが江戸幕府に要求したことのうち、誤っているものを次のア～エの中から1つ選び、記号で答えなさい。

- ア 難破したアメリカ船の乗員を保護すること
- イ アメリカ船に食料や水・石炭を与えること
- ウ アメリカと貿易を始めること
- エ 神奈川・兵庫・長崎を開港すること

問7 下線部⑦について、このとき琉球藩がなくなりました。藩をなくして県とすることを何といいますか。漢字またはひらがなで答えなさい。

問8 空欄⑧は現在、日本の領土でありながら、中国が自国の領土と主張している場所です。その場所はどこですか。次のア～エの中から1つ選び、記号で答えなさい。

- ア 竹島
- イ 歯舞群島
- ウ 小笠原諸島
- エ 尖閣諸島

問9 下線部⑨について、これは第一回帝国議会の開催から、およそ何年遅れて実現しましたか。次のア～エの中から1つ選び、記号で答えなさい。

- ア 11年
- イ 22年
- ウ 33年
- エ 44年

問10 下線部⑩について、沖縄にアメリカ軍が上陸し、住民を巻き込んだ激しい地上戦がおこなわれました。その説明として誤っているものを次のア～エの中から1つ選び、記号で答えなさい。

- ア 沖縄戦では県民のおよそ4人に1人がなくなったといわれる。
- イ アメリカ軍に追いつめられた住民の中には集団で死を選んだ人々もいた。
- ウ 多くの女子学生や児童は九州などに疎開<sup>そかい</sup>していたので、犠牲者<sup>ぎせいしや</sup>はほとんどいなかった。
- エ 鉄血勤皇隊<sup>てつけっきんのうたい</sup>のように、アメリカ軍との戦闘<sup>せんとう</sup>に参加させられた男子学生もいた。

問11 下線部⑪について、この条約の説明として誤っているものを次のア～エの中から1つ選び、記号で答えなさい。

- ア この条約によって、占領が終わり、翌年日本は主権と独立を回復した。
- イ この条約によって、沖縄はアメリカが治めることになった。
- ウ 日本は朝鮮の独立を承認して、台湾<sup>たいわん</sup>、南樺太<sup>からふと</sup>・千島列島<sup>ちしま</sup>を放棄<sup>ほうき</sup>した。
- エ この条約によって、国際連合への加盟が認められた。

問12 下線部⑫について、沖縄には日本復帰後もアメリカ軍基地が残されました。基地が残る沖縄県についての説明として誤っているものを次のア～エの中から1つ選び、記号で答えなさい。

- ア 軍用機による事故に住民が巻き込まれたことがある。
- イ 基地周辺では騒音の発生に悩まされている。
- ウ 海沿いの基地を、内陸の都市部へ移設することに多くの人が反対している。
- エ 日本全体のアメリカ軍基地の7割が沖縄に集中している。

3

去年7月に行われた選挙について、先生と生徒が教室で話をしています。2人の会話文を読んで、あとの間に答えなさい。

太郎 「先生、夏休みに入る直前に選挙が行われたのですね。」

先生 「きちんとニュースを見ていますね。選挙の内容については理解できましたか？」

太郎 「( ① ) 議員を選ぶ選挙です。以前、アイドルが『総選挙』によって選抜メンバーを選ぶというイベントを見たことがありますが、今回は『総選挙』という言葉を目にしないなと思いました。」

先生 「よく気づきましたね。一度に全員を選挙する ( ② ) 議員を選ぶときは、『総』選挙といい、( ① ) 議員を選ぶときは『通常』選挙といいます。総選挙と呼ばないのは、この選挙は ( ③ ) 方式で行われるからです。」

太郎 「なるほど。名前にも意味があるのですね。」

先生 「選挙の結果については、どこまで覚えていますか。」

太郎 「④『与党が勝った』と新聞に書いてあったと思います。『選挙に当選した人』は勝ったと言えると思いますが、『政党が勝った』とはどういう意味でしょう？」

太郎 「一番多くの立候補者を当選させた政党が、『勝った政党』ですか。」

先生 「一度の選挙だけを見るならば、それも間違いではありません。太郎くんが目にした新聞報道の内容と合わせて考えましょう。今回は、すでに政権を担<sup>に</sup>っている政党が、( ⑤ ) ということになります。」

先生 「国会は、国に関する様々な事柄を決定する権限を持っています。各議院の議員全員で話し合い、憲法改正などの特別な場合を除けば、( ⑥ )。」

先生 「国会議員は、自分が所属する政党が提案した法律について賛成します。選挙によって、多くの仲間が当選すればするほど、政治的な理想を実現しやすくなります。」

太郎 「今回の選挙によって、与党がやりたいことをやりやすくなったわけですね。」

先生 「そう言えると思います。⑦東ヨーロッパでの戦争や、新型コロナウイルスなど、対応の難しい問題が起こっていますから、政府の対応やその結果に引き続き注目してください。そして、皆さんが参政権を得た時、『政党』も考慮に入れて投票先を決定してくれるとうれしいです。」

太郎 「次の国会議員を選ぶ選挙はいつになりますかね。」

先生 「⑧それは、何とも言えませんね。世の中の様子を見ながら、次の選挙がいつあるかを予想してみるのも面白いと思います。」

**問1** 文中の ( ① ) ・ ( ② ) に当てはまる語句をそれぞれ漢字3字で書きなさい。

**問2** 文中の ( ③ ) に入る内容として最も適当なものを次のア～エから1つ選び、記号で答えなさい。

- ア 1年に1回、6分の1ずつ交代させる
- イ 2年に1回、3分の1ずつ交代させる
- ウ 3年に1回、半分ずつ交代させる
- エ 「国民投票で選挙すべき」という意見が多数の場合に交代させる

**問3** 下線部④について、「与党」について説明した以下の文章 (1) ・ (2) について、その正誤の組合せとして正しいものを、次のア～エから1つ選び、記号で答えなさい。

- (1) 国会の議席数において、第1位と第2位の政党
- (2) 政権を担当している政党

- ア (1) - 正 (2) - 正
- イ (1) - 正 (2) - 誤
- ウ (1) - 誤 (2) - 正
- エ (1) - 誤 (2) - 誤

問4 文中の ( ⑤ ) に入る内容として最も適当なものを、次のア～ウから1つ選び、記号で答えなさい。

- ア 選挙前よりも、仲間の議員の数を増やした
- イ 選挙前と全く同じ数だけ、仲間の議員が当選した
- ウ 選挙前よりも、仲間の議員の数を減らした

問5 文中の ( ⑥ ) に入る内容として正しいものを、次のア～エから1つ選び、記号で答えなさい。

- ア 「賛成」が出席者の過半数であれば決まります
- イ 全員が「賛成」するまで何回も繰り返します
- ウ 「賛成」が出席者の3分の2以上であれば決まります
- エ 「反対」が出席者の3分の1以上の案は、議論をやり直します

問6 文中の下線部⑦について、2022年に東ヨーロッパで起きた戦争で、ロシアと戦火を交えることとなった国を、次の地図上のア～エから1つ選び、記号で答えなさい。



問7 下線部⑧の発言の理由を考えて書きなさい。



(令和5年度)

社会解答用紙

(第3回入試)

教室番号	座席番号	受験番号	氏名

※合計
-----

注意 (イ) ※のらんには何も書かないこと。  
 (ロ) 答えは、数字やア、イ、ウなどの記号を紛らわしくないようにきちんと書くこと。  
 (ハ) 答えの文字数には、句読点を含みます。

1

問1

※合計
-----

問2			
(1)	(2)	(3)	(4)

問3		
(1)	(2)	(3)
●	▲	x

2

問1	問2

※合計
-----

問3

問4	問5	問6	問7	問8	問9	問10

問11	問12

3

問1		問2	問3	問4
(1)	(2)			

※合計
-----

問5	問6

問7